



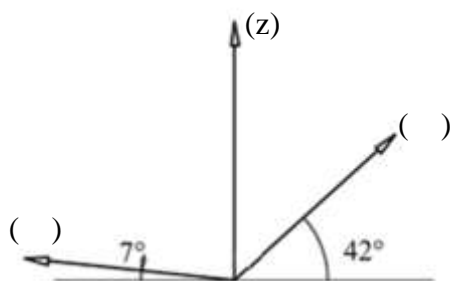
COLÉGIO POLITÉCNICO DE MOÇAMBIQUE

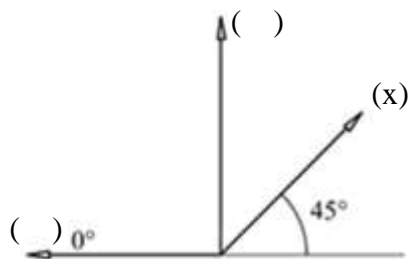
Ficha da 2ª ACS de Educação Visual, 8ª Classe, III Trimestre, 2025

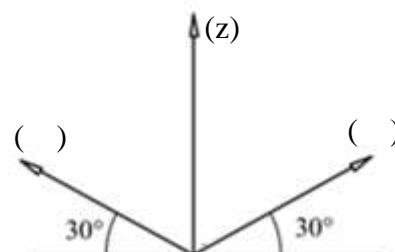
1. Completa a tabela abaixo:

Tipo de axonometria	Eixos		
	x	y	z
Isométrica			
Dimétrica			
Cavaleira			

2. Completa os espaços vazios. (axonometria).







3. Representa um cubo de 5 cm nas três perspectivas axonométricas.

(Isométrica)

(Dimétrica)

(Cavaleira)

Fim